

¿¿El Laberinto Misterioso Matemático??

Busca el camino que atraviesa este laberinto matemático hasta llegar al número 37. Puedes avanzar hacia abajo o hacia los lados, haciendo las operaciones matemáticas mientras avanzas. Tienes que obtener una respuesta final de 37. ¡Buena Suerte! Fijate en el ejemplo para entender mejor.


EJEMPLO

EMPIEZA

7	+	4	x	3
x		x		÷
50	x	8	+	6
-		-		x
100	÷	20	+	5





= 25

$$(4 \times 3 = 12 \rightarrow 12 \div 6 = 2 \rightarrow 2 + 8 = 10 \rightarrow 10 \times 50 = 500 \rightarrow 500 - 100 = 400 \rightarrow 400 \div 20 = 20 \rightarrow 20 + 5 = 25)$$



Si el laberinto se te hace difícil, yo seré tu guía. Aquí te va una clave: Mi nombre es HOLLIE. Usa el código secreto de Mike's Math Club y siguemme a través del laberinto.

EMPIEZA

6	x	3	x	5
÷		+		+
2	-	11	x	11
x		+		-
9	+	10	÷	8

→ = 37